

Aufgabe 2

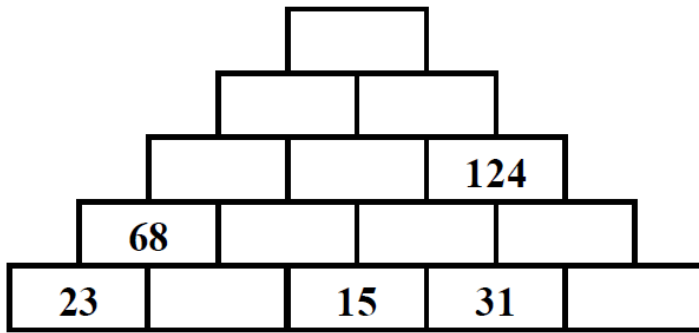
Vor und zurück - Addiere und subtrahiere immer 230.

4	6	3	+	2	3	0	=	6	9	3
4	6	3	-	2	3	0	=	2	4	3
5	2	8	+				=			
			-				=			
6	7	3	+				=			
			-				=			

___/5P

Aufgabe 3

Addiere.



___/5P

Aufgabe 4

Überschlag. Runde auf oder ab.

Bilde erst den Überschlag und dann rechne genau.

	3	7	7	+	4	3	9	=			
Ü:	3	8	0	+	4	4	0	=	8	2	0
genau:	3	7	7	+	4	3	9	=	8	1	6

	2	8	9	+	3	2	2	=			
Ü:								=			
genau:								=			
	5	2	9	-	1	2	7	=			
Ü:								=			
genau:								=			

___/4P

Lösung Klassenarbeit - Schriftliche Addition und Subtraktion

Schriftliche Subtraktion; Addieren und subtrahieren bis 1000; Überschlag;
Schriftliche Addition; Zahlenrätsel

Aufgabe 1

Subtrahiere.

6	2	3	-	2	1	2	=	4	1	1
4	6	8	-	3	5	6	=	1	1	2
9	3	8	-	6	2	7	=	3	1	1

8	2	7	-	4	3	5	=	3	9	2
7	3	6	-	3	2	8	=	4	0	8
3	5	4	-	2	6	7	=		8	7

___ /6P

Aufgabe 2

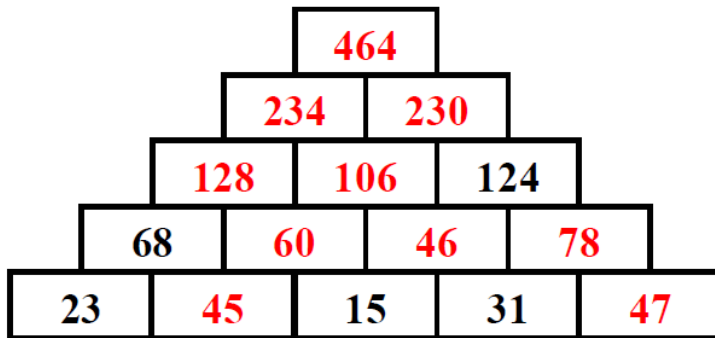
Vor und zurück - Addiere und subtrahiere immer 230.

4	6	3	+	2	3	0	=	6	9	3
4	6	3	-	2	3	0	=	2	4	3
5	2	8	+	2	3	0	=	7	5	8
5	2	8	-	2	3	0	=	2	9	8
6	7	3	+	2	3	0	=	9	0	3
6	7	3	-	2	3	0	=	4	4	3

___ /5P

Aufgabe 3

Addiere.



___ /5P

Aufgabe 4

Überschlag. Runde auf oder ab.

Bilde erst den Überschlag und dann rechne genau.

	3	7	7	+	4	3	9	=			
Ü:	3	8	0	+	4	4	0	=	8	2	0
genau:	3	7	7	+	4	3	9	=	8	1	6

	2	8	9	+	3	2	2	=			
Ü:	2	9	0	+	3	2	0	=	6	1	0
genau:	2	8	9	+	3	2	2	=	6	1	1
	5	2	9	-	1	2	7	=			
Ü:	5	3	0	-	1	3	0	=	4	0	0
genau:	5	2	9	-	1	2	7	=	4	0	2

___ /4P

Aufgabe 5

Addiere und subtrahiere.

5	3	7	-	2	1	5	+	4	9	3	-	2	2	0	=	5	9	5
1	2	8	+	3	4	5	-	2	9	2	+	5	3	3	=	7	1	4

___ /6P

Aufgabe 6

Zusatzaufgabe:

Wenn du das Siebenfache von 8 mit dem vierfachen von 9 addierst, erhältst du die Hälfte der gesuchten Zahl.

Wie heißt die Zahl?

$$7 \cdot 8 = 56$$

$$4 \cdot 9 = 36$$

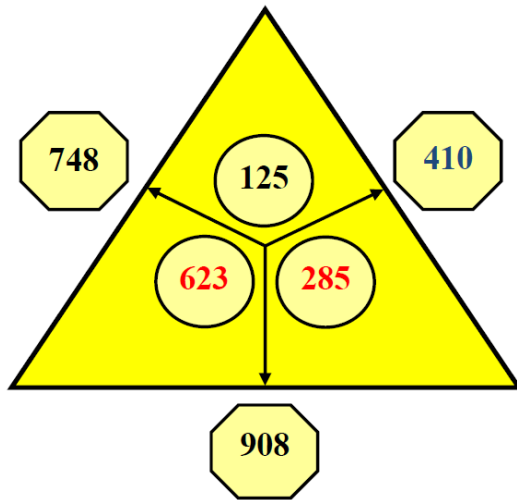
$$56 + 36 = 92$$

$$92 \cdot 2 = 184$$

___ /2P

Aufgabe 7

Ergänze.



___ /3P

Aufgabe 8

Verdopple.

2	0	0		4	0	0
2	2	0		4	4	0
2	8	0		5	6	0
3	5	0		7	0	0
4	3	0		8	6	0

Halbiere.

8	0	0		4	0	0
2	0	0		1	0	0
3	2	0		1	6	0
4	5	0		2	2	5
8	6	0		4	3	0

___ /5P

Viel Erfolg!!

Gesamt: ___ /36P

Note	1	1-	1-2	2+	2	2-	2-3	3+	3	3-	3-4	4+	4	4-	4-5	5+	5	5-	5-6	6+
Punkte	34	32	31	30	28	27	26	24	23	21	19	18	16	14	12	10	9	7	6	4