

# Klassenarbeit - Die Erde

Kontinente; Ozeane; Weltraum; Gradnetz

## Aufgabe 1

**Auf der Karte findest du Buchstaben und Zahlen. Nenne die Namen der Kontinente und Ozeane. Welcher Kontinent fehlt?**

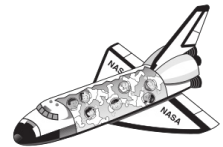


\_\_\_/10P

## Aufgabe 2

**Könnte man in einem Raumschiff bis zu einem anderen Stern fahren?  
Warum? Warum nicht?**

\_\_\_\_\_



\_\_\_/2P

## Aufgabe 3

**Gib die Lage der Punkte A und B im Gradnetz an**

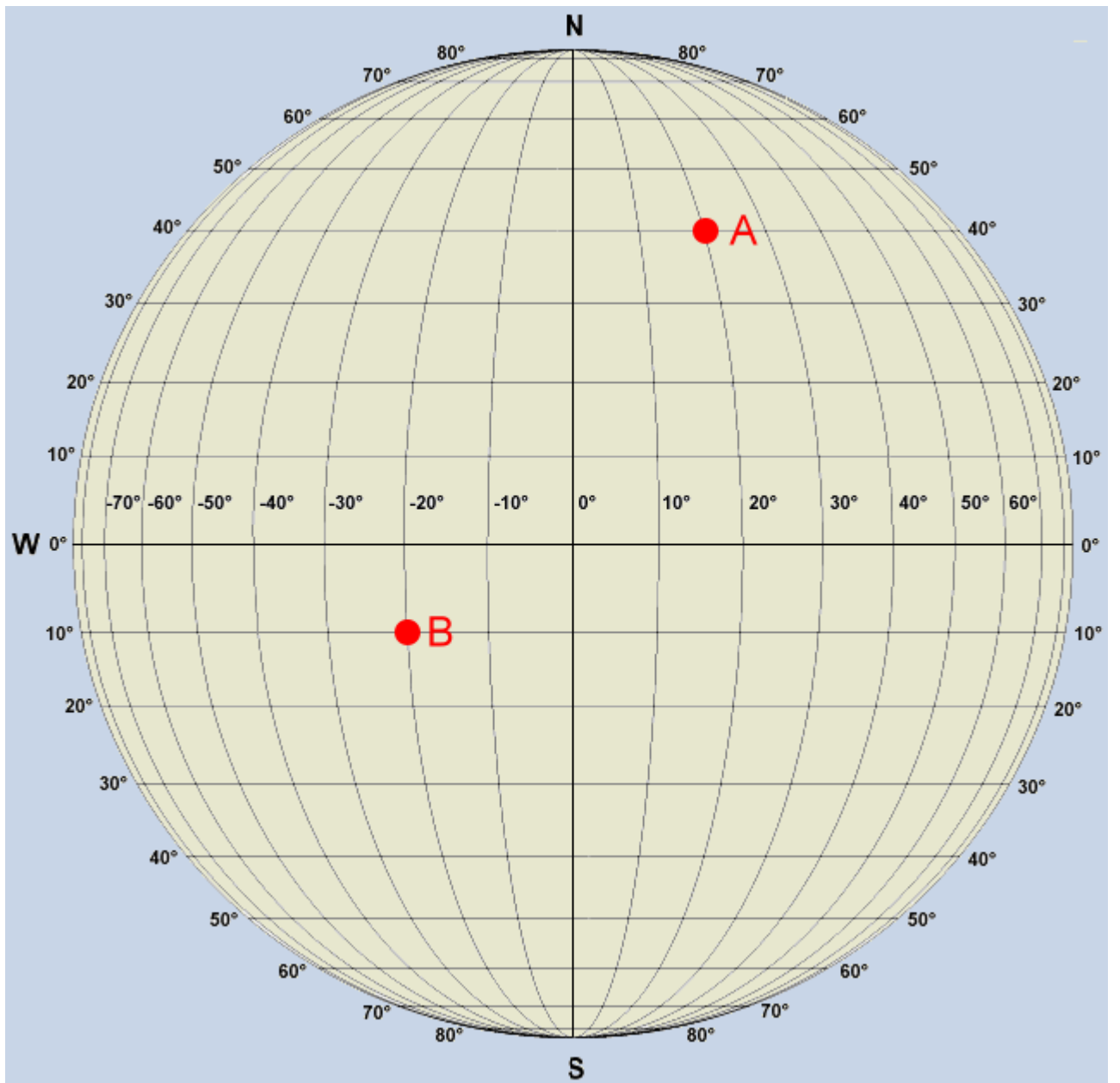
Punkt A: \_\_\_\_\_

Punkt B: \_\_\_\_\_

**Markiere die Punkte C und D**

Punkt C: 10° s. Br. / 0° ö. L.

Punkt D: 20° n. Br. / 60° w.L.



\_\_\_/8P

Aufgabe 4

**Nenne die 7 Kontinente und die 5 Ozeane.**

Kontinente	Ozeane
1.	1.
2.	2.
3.	3.
4.	4.
5.	5.
6.	
7.	

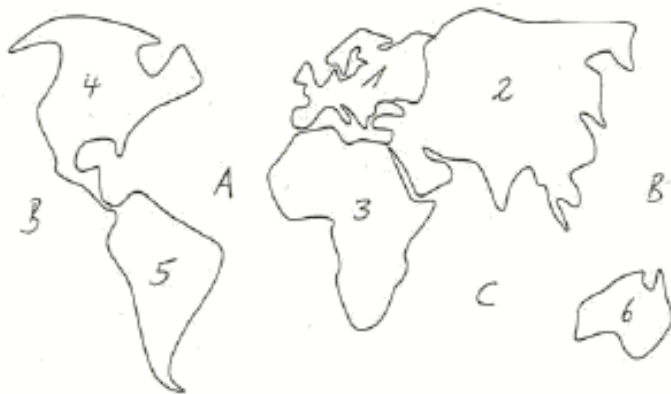
\_\_\_/10P

# Lösung Klassenarbeit - Die Erde

Kontinente; Ozeane; Weltraum; Gradnetz

## Aufgabe 1

Auf der Karte findest du Buchstaben und Zahlen. Nenne die Namen der Kontinente und Ozeane. Welcher Kontinent fehlt?



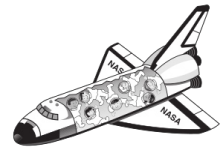
A = Atlantischer Ozean  
B = Pazifischer Ozean  
C = Indischer Ozean  
1 = Europa  
2 = Asien  
3 = Afrika  
4 = Nordamerika  
5 = Südamerika  
6 = Australien  
Antarktis fehlt!

\_\_\_/10P

## Aufgabe 2

Könnte man in einem Raumschiff bis zu einem anderen Stern fahren?  
Warum? Warum nicht?

Nein, weil es viel zu lange dauert.



\_\_\_/2P

Aufgabe 3

Gib die Lage der Punkte A und B im Gradnetz an

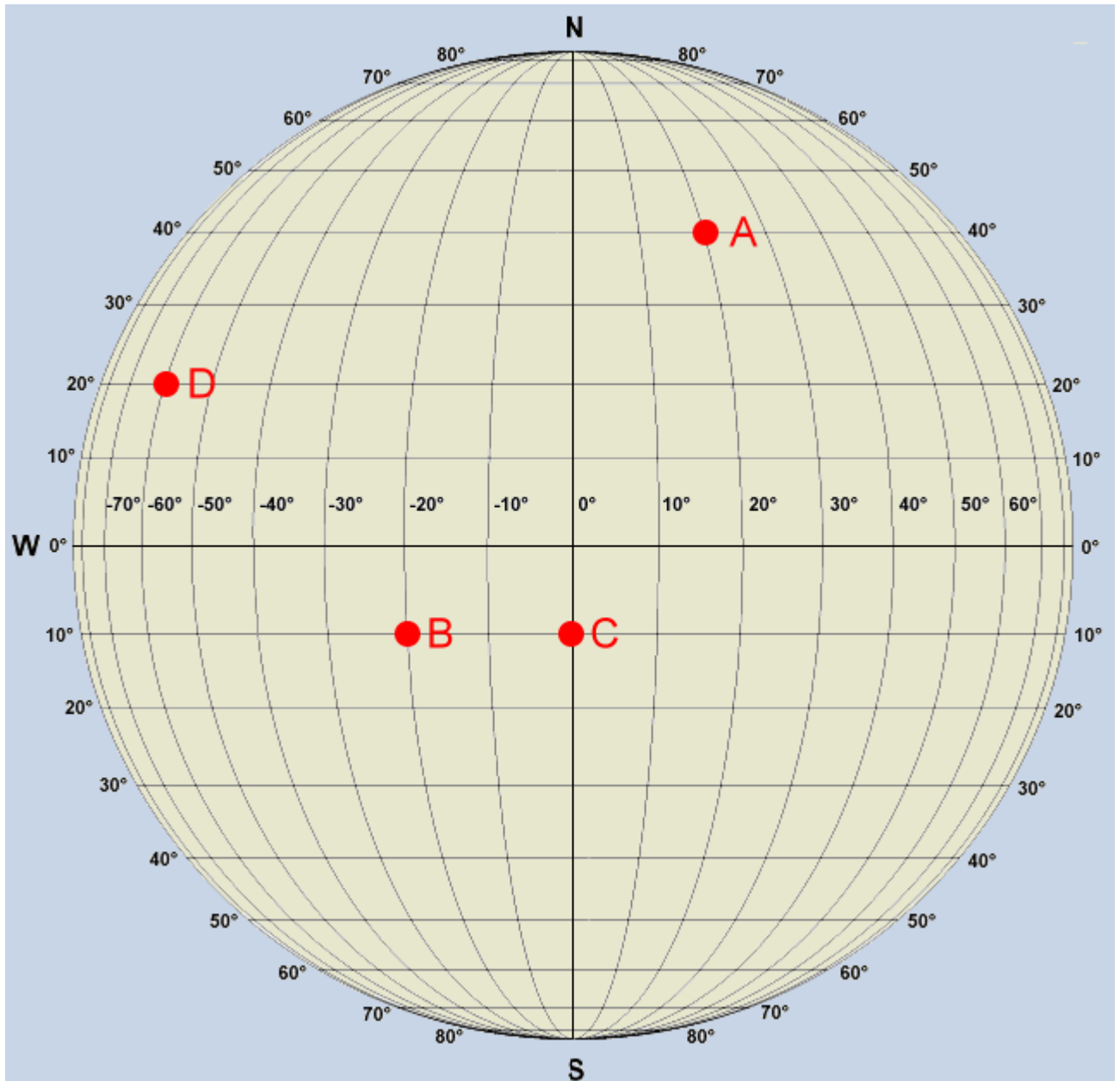
Punkt A: **40° n. Br. / 20° ö. L.**

Punkt B: **10° s. Br. / 20° w. L.**

Markiere die Punkte C und D

Punkt C: 10° s. Br. / 0° ö. L.

Punkt D: 20° n. Br. / 60° w.L.



Aufgabe 4

Nenne die 7 Kontinente und die 5 Ozeane.

Kontinente	Ozeane
1. <b>Asien</b>	1. <b>Pazifischer Ozean</b>
2. <b>Europa</b>	2. <b>Atlantischer Ozean</b>
3. <b>Australien</b>	3. <b>Indischer Ozean</b>
4. <b>Südamerika</b>	4. <b>Arktischer Ozean</b>
5. <b>Nordamerika</b>	5. <b>Antarktischer Ozean</b>
6. <b>Afrika</b>	
7. <b>Antarktis</b>	

\_\_\_/10P

*Viel Erfolg!!*

Gesamt: \_\_\_/30P

Note	1	1-	1-2	2+	2	2-	2-3	3+	3	3-	3-4	4+	4	4-	4-5	5+	5	5-	5-6	6+
Punkte	27	25	24	23	22	21	20	19	18	16	15	13	12	10	9	8	7	6	5	4