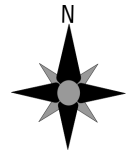


# Klassenarbeit - Maßstab und Karte

Himmelsrichtungen; Karten; Maßstab; Höhen

## Aufgabe 1

**Weißt du welche verschiedenen Möglichkeiten es gibt, die Himmelsrichtungen zu bestimmen? Nenne zwei.**



\_\_\_\_\_ /2P

## Aufgabe 2

**Erkläre folgende Begriffe:**

**a.) Wohngebiet**

\_\_\_\_\_

**b.) Mischgebiet**

\_\_\_\_\_

**c.) Industriegebiet**

\_\_\_\_\_

\_\_\_ /3P

## Aufgabe 3

**Welche Karten benutzt du, wenn du ...**

**a.) ... eine Wanderung machen willst?**

\_\_\_\_\_

**b.) ... neu in einer Stadt bist?**

\_\_\_\_\_

**c.) ... nach Frankreich in Urlaub fahren willst?**

\_\_\_\_\_



\_\_\_ /3P

Aufgabe 4

**Was ist ein Maßstab?**

---

---

---

\_\_\_ /3P

Aufgabe 5

**Was bedeutet „m ü NN“?**

---

\_\_\_ /2P

Aufgabe 6





**Bestimme den Maßstab:**

- a.) 1 cm entspricht 500m: Maßstab 1: \_\_\_\_\_
- b.) 1 cm entspricht 2 km: Maßstab 1: \_\_\_\_\_
- c.) 1 cm entspricht 20 km: Maßstab 1: \_\_\_\_\_

\_\_\_ /3P

Aufgabe 7

**Was bedeutet in der Kartenlegende...?**

Symbol	Bedeutung
	
	
	
	

\_\_\_ /4P

Aufgabe 8

**Worüber geben die folgenden Karten Auskunft?**

**a) Landschaftskarte**

---

---

**b) Physische Karte**

---

---

**c) Bevölkerungsdichtekarte**

---

---

\_\_\_/6P


# Lösung Klassenarbeit - Maßstab und Karte

Himmelsrichtungen; Karten; Maßstab; Höhen

## Aufgabe 1

Weißt du welche verschiedenen Möglichkeiten es gibt, die Himmelsrichtungen zu bestimmen? Nenne zwei.

**1. Kompass, 2. Polarstern, 3. Sonnenstand, 4. Windrose**



\_\_\_ /2P

## Aufgabe 2

Erkläre folgende Begriffe:

a.) Wohngebiet

**In diesem Gebiet befinden sich Wohnhäuser.**

b.) Mischgebiet

**In diesem Gebiet befinden sich Wohnhäuser und Industrieanlagen.**

c.) Industriegebiet

**In diesem Gebiet befinden sich Industrieanlagen (Fabriken).**

\_\_\_ /3P

## Aufgabe 3

Welche Karten benutzt du, wenn du ...

a.) ... eine Wanderung machen willst?

**Wanderkarte**

b.) ... neu in einer Stadt bist?

**Stadtplan**

c.) ... nach Frankreich in Urlaub fahren willst?

**Landkarte von Frankreich**



\_\_\_ /3P

Aufgabe 4

**Was ist ein Maßstab?**

**Der Maßstab (Maßzahl) gibt an um wie viel verkleinert etwas ist z.B. 500 m in der Wirklichkeit sind 1 cm auf der Karte.**

\_\_\_/3P

Aufgabe 5

**Was bedeutet „m ü NN“?**

**Meter über dem Meeresspiegel (Normal Null)**

\_\_\_/2P

Aufgabe 6





**Bestimme den Maßstab:**

- a.) 1 cm entspricht 500m: Maßstab 1: **50 000**
- b.) 1 cm entspricht 2 km: Maßstab 1: **200 000**
- c.) 1 cm entspricht 20 km: Maßstab 1: **2 000 000**

\_\_\_/3P

Aufgabe 7

**Was bedeutet in der Kartenlegende...?**

Symbol	Bedeutung
	<b>Bahnstrecke</b>
	<b>Bundesstraße</b>
	<b>Mischwald</b>
	<b>Aussichtspunkt</b>

\_\_\_/4P

Aufgabe 8

**Worüber geben die folgenden Karten Auskunft?**

**a) Landschaftskarte**

**Diese Karte gibt über Wälder, Sümpfe, wichtige Gebäude und Höhenangaben Auskunft.**

**b) Physische Karte**

**Diese Karte gibt über Höhenschichten und wichtige landschaftliche Merkmale (z.B. Flüsse) Auskunft.**

**c) Bevölkerungsdichtekarte**

**Diese Karte gibt über die Bevölkerung (genauer die Dichte d.h. wie viele Menschen in bestimmten Raum leben) Auskunft.**

\_\_\_\_/6P

*Viel Glück!!*

Gesamt: \_\_\_\_/26P

Note	1	1-	1-2	2+	2	2-	2-3	3+	3	3-	3-4	4+	4	4-	4-5	5+	5	5-	5-6	6+
Punkte	23	22	21	20	19	18	17	16	15	14	13	11	10	9	8	7	6	5	4	3