

# Klassenarbeit - Mathetests im 2. Halbjahr

Tauschaufgaben; Plus oder Minus; Mengen erfassen; Rechnung ergänzen;  
Zahlenstrahl

## Aufgabe 1

**Rechne.**

$3 + 5 = \underline{\quad}$

$13 + 2 = \underline{\quad}$

$6 + 9 = \underline{\quad}$

$5 + 3 = \underline{\quad}$

$2 + 13 = \underline{\quad}$

$9 + 6 = \underline{\quad}$

\_\_\_/6P

## Aufgabe 2

**Plus oder Minus? Trage ein.**

$5 \quad \underline{\quad} \quad 3 = 2$

$17 \quad \underline{\quad} \quad 3 = 20$

$8 \quad \underline{\quad} \quad 4 = 4$

$6 \quad \underline{\quad} \quad 4 = 10$


$17 \quad \underline{\quad} \quad 3 = 14$

$8 \quad \underline{\quad} \quad 4 = 12$


\_\_\_/6P

## Aufgabe 3

**Wie viele Würfel fehlen? Ergänze.**



18



$14 + \underline{\quad} = 18$



$\underline{\quad} + \underline{\quad} = 18$

\_\_\_/3P

## Aufgabe 4

**Ergänze. Setze fort.**

$5 + \underline{\quad} = 6$

$5 + \underline{\quad} = 7$

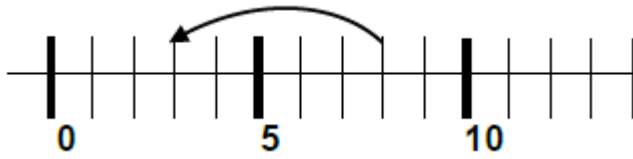
$5 + \underline{\quad} = 8$

$5 + \underline{\quad} = \underline{\quad}$

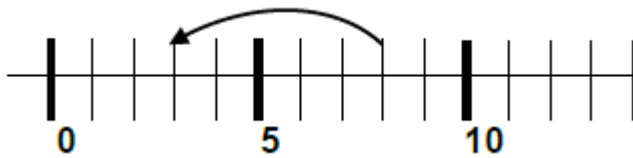
\_\_\_/5P

Aufgabe 5

Schreibe die Rechnung auf.



8 - \_\_\_\_ = \_\_\_\_

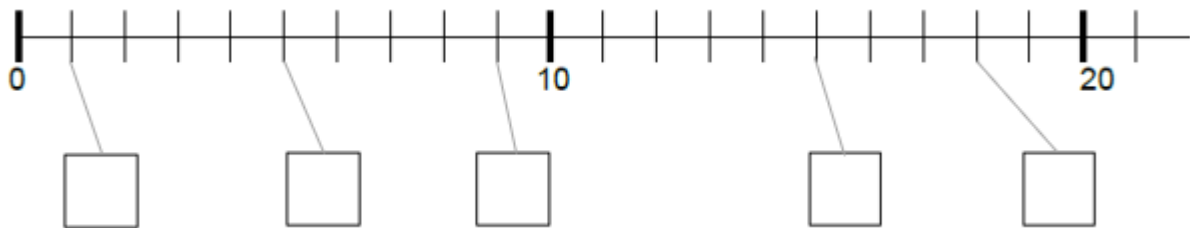


10 + \_\_\_\_ = \_\_\_\_

\_\_\_/4P

Aufgabe 6

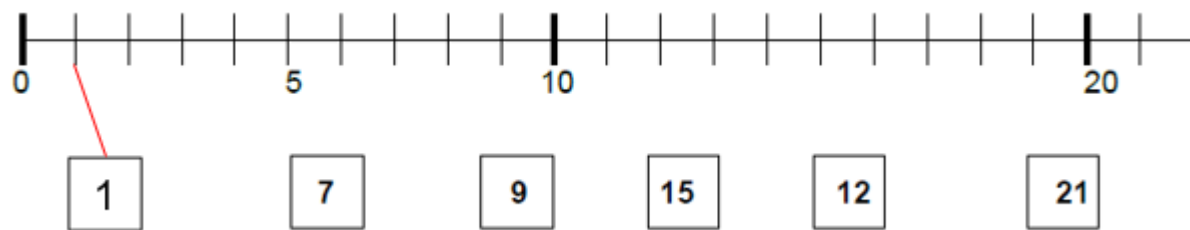
Welche Zahlen sind es?



\_\_\_/5P

Aufgabe 7

Verbinde.



\_\_\_/6P

# Lösung Klassenarbeit - Mathetests im 2. Halbjahr

Tauschaufgaben; Plus oder Minus; Mengen erfassen; Rechnung ergänzen;  
Zahlenstrahl

## Aufgabe 1

**Rechne.**

$3 + 5 = 8$

$13 + 2 = 15$

$6 + 9 = 15$

$5 + 3 = 8$

$2 + 13 = 15$

$9 + 6 = 15$

\_\_\_/6P

## Aufgabe 2

**Plus oder Minus? Trage ein.**

$5 - 3 = 2$

$17 + 3 = 20$

$8 - 4 = 4$

$6 + 4 = 10$


$17 - 3 = 14$

$8 + 4 = 12$


\_\_\_/6P

## Aufgabe 3

**Wie viele Würfel fehlen? Ergänze.**



18



$14 + 4 = 18$



$8 + 10 = 18$

\_\_\_/3P

## Aufgabe 4

**Ergänze. Setze fort.**

$5 + 1 = 6$

$5 + 2 = 7$

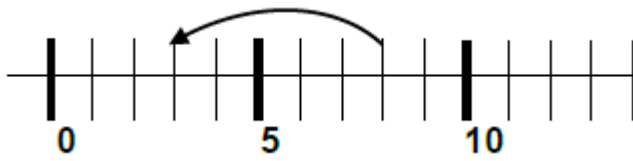
$5 + 3 = 8$

$5 + 4 = 9$

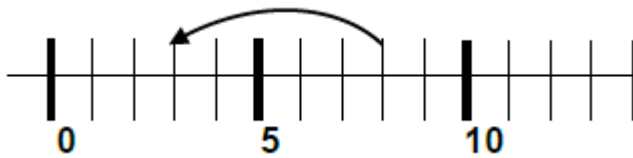
\_\_\_/5P

Aufgabe 5

Schreibe die Rechnung auf.



$8 - 4 = 4$

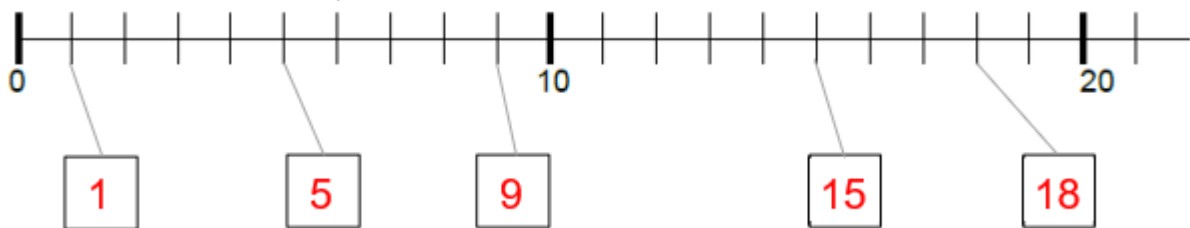


$10 + 3 = 13$

\_\_\_/4P

Aufgabe 6

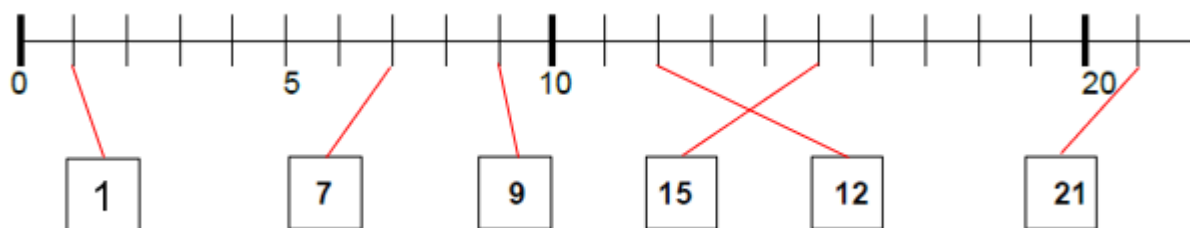
Welche Zahlen sind es?



\_\_\_/5P

Aufgabe 7

Verbinde.



\_\_\_/6P

*Viel Glück!!*

Gesamt: \_\_\_/35P

Note	1	1-	1-2	2+	2	2-	2-3	3+	3	3-	3-4	4+	4	4-	4-5	5+	5	5-	5-6	6+
Punkte	33	31	30	29	28	26	25	24	22	21	19	17	15	14	12	10	8	7	6	4