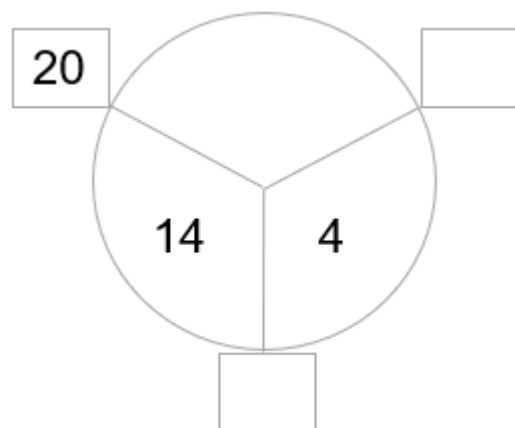
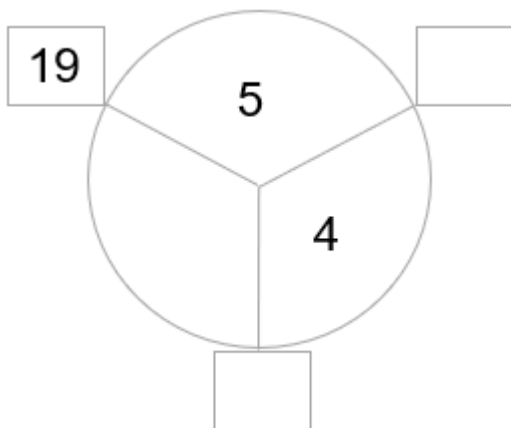


Klassenarbeit - Mathetests im 2. Halbjahr

Rechenkreis; Rechenpyramide; Rechentabelle; Zahlenreihe

Aufgabe 1

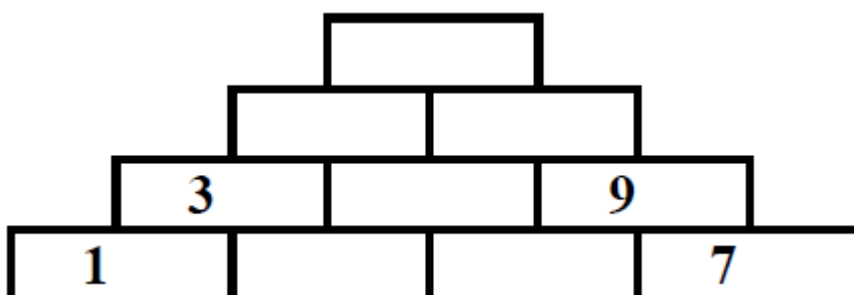
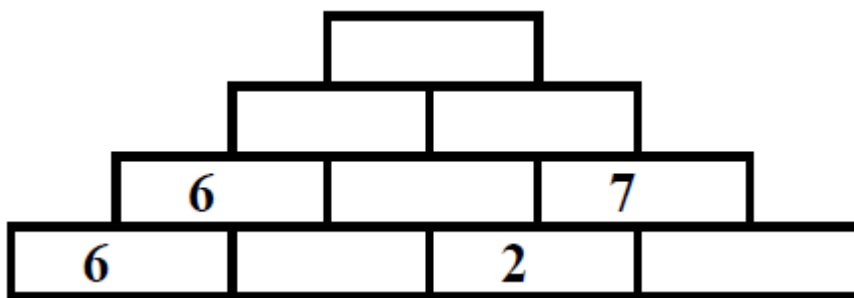
Setze die richtigen Zahlen ein.



___/6P

Aufgabe 2

Berechne.



___/12P

Aufgabe 3

Fülle das Rechengitter aus.

+	7	6	5	3
9				
8				
7				

-	9	8	6	2
15				
13				
12				

___ /24P

Aufgabe 4

Setze die Reihe fort.

19, 17, 15, _____, _____, _____

5, 8, 11, _____, _____, _____

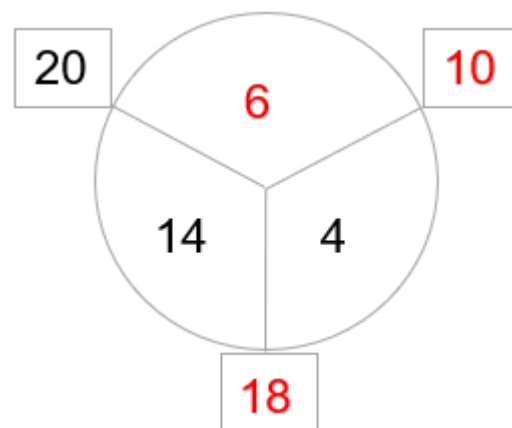
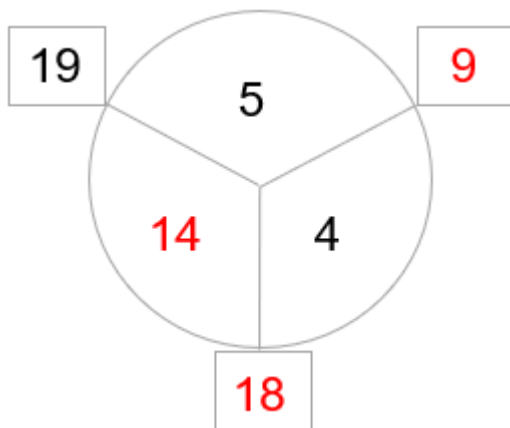
___ /6P

Lösung Klassenarbeit - Mathetests im 2. Halbjahr

Rechenkreis; Rechenpyramide; Rechentabelle; Zahlenreihe

Aufgabe 1

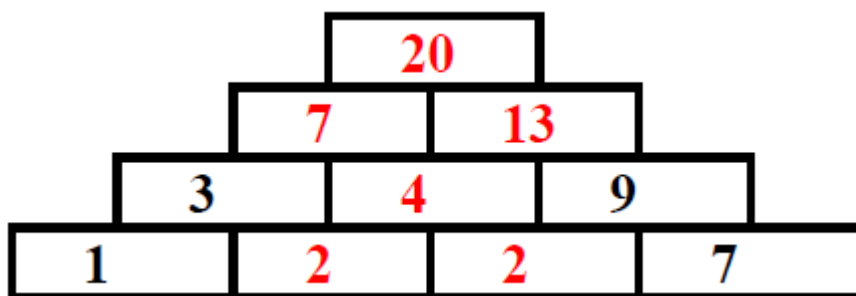
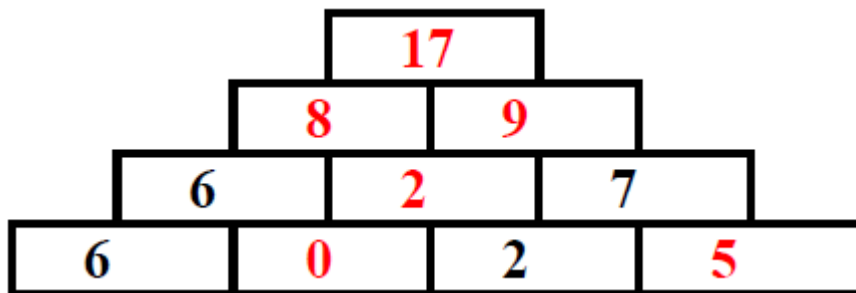
Setze die richtigen Zahlen ein.



___/6P

Aufgabe 2

Berechne.



___/12P

Aufgabe 3

Fülle das Rechengitter aus.

+	7	6	5	3
9	16	15	14	12
8	15	14	13	11
7	14	13	12	10

-	9	8	6	2
15	6	7	9	13
13	4	5	7	11
12	3	4	6	10

___/24P

Aufgabe 4

Setze die Reihe fort.

19, 17, 15, **13, 11, 9**

5, 8, 11, **14, 17, 20**

___/6P

Viel Glück!!

Gesamt: ___/48P

Note	1	1-	1-2	2+	2	2-	2-3	3+	3	3-	3-4	4+	4	4-	4-5	5+	5	5-	5-6	6+
Punkte	45	43	42	40	38	36	34	33	31	28	26	24	21	19	16	14	12	10	8	6