

Klassenarbeit - Zahlenraum bis 1000

Stellentafel; Zahlenreihen; Nachbarzahlen; Zahlenbilder; Zahlenrätsel;
Tausenderfeld

Aufgabe 1

Welche Zahl ist gemeint?

5H 9Z 8E _____


2H 7Z 3E _____

9H 6Z 0E _____

9Z 4H 5E _____

4E 9H _____

7Z 3H 8E _____



___/6P

Aufgabe 2

Schreibe die Zahlen in die Stellentafel (H, Z, E):

	H	Z	E
zweihundertachtundvierzig			
achthundertneun			
neunundachtzig			
neunhundredsiebenundneunzig			
vierhundertfünfundachtzig			
siebenhundertvierzig			
sechshunderteinundzwanzig			
dreihundertsechsfünfundzig			

___/8P

Aufgabe 3

Zerlege die Zahlen und schreibe als Rechnung:

789 = _____

501 = _____

284 = _____

850 = _____

632 = _____

912 = _____

___/6P

Aufgabe 4

Setze die Reihen fort.



630, 640, _____, _____, _____, _____, _____, _____, _____, 730

387, 386, _____, _____, _____, _____, _____, _____, _____, 377

647, 657, _____, _____, _____, _____, _____, _____, _____, 747

355, 360, _____, _____, _____, _____, _____, _____, _____, 405

475, 473, _____, _____, _____, _____, _____, _____, _____, 455

___/10P

Aufgabe 5


Wie heißen die Zehnergarnachbarn?

_____ 635 _____

_____ 492 _____

_____ 502 _____

_____ 600 _____



_____ 999 _____

_____ 847 _____

_____ 288 _____


_____ 173 _____

___/8P

Aufgabe 6

Wie heißen die Hunderternachbarn?

_____ 601 _____
 _____ 494 _____
 _____ 480 _____
 _____ 784 _____



_____ 831 _____
 _____ 320 _____
 _____ 105 _____
 _____ 903 _____

___/8P

Aufgabe 7

Zeichne die Zahlbilder.

214	124	241	412	421

___/5P

Aufgabe 8

Zusatzaufgabe

	Gedachte Zahl
Ich denke mir eine Zahl. Es ist die kleinste dreistellige Zahl.	
Ich denke mir eine Zahl. Die Zehnerstelle ist 9. Die Einerstelle ist um 3 kleiner als die Zehnerstelle. Die Hunderterstelle ist um 1 kleiner als die Einerstelle.	
Ich denke mir eine Zahl. Die Hunderterstelle ist die Hälfte von der Zehnerstelle. Die Zehnerstelle ist 8. Die Einerstelle ist um 7 kleiner als die Zehnerstelle.	
Ich denke mir eine Zahl. Die Zehnerstelle ist 4. Die Einerstelle ist halb so groß wie die Zehnerstelle. Die Hunderterstelle ist doppelt so groß wie die Zehnerstelle.	

___/6P

Aufgabe 9

Trage die Nachbarzahlen ein.

	378	

	632	

	255	

___/12P

Lösung Klassenarbeit - Zahlenraum bis 1000

Stellentafel; Zahlenreihen; Nachbarzahlen; Zahlenbilder; Zahlenrätsel;
Tausenderfeld

Aufgabe 1

Welche Zahl ist gemeint?

5H 9Z 8E **598**


2H 7Z 3E **273**

9H 6Z 0E **960**

9Z 4H 5E **495**

4E 9H **904**

7Z 3H 8E **378**



___ /6P

Aufgabe 2

Schreibe die Zahlen in die Stellentafel (H, Z, E):

	H	Z	E
zweihundertachtundvierzig	2	4	8
achthundertneun	8	0	9
neunundachtzig		8	9
neunhundredsiebenundneunzig	9	9	7
vierhundertfünfundachtzig	4	8	5
siebenhundertvierzig	7	4	0
sechshunderteinundzwanzig	6	2	1
dreihundertsechsfünfzig	3	5	6

___ /8P

Aufgabe 3

Zerlege die Zahlen und schreibe als Rechnung:

$$789 = 7H \ 8Z \ 9E \quad 700+80+9$$

$$501 = 5H \ 0Z \ 1E \quad 500+ 0+1$$

$$284 = 2H \ 8Z \ 4E \quad 200+80+4$$

$$850 = 8H \ 5Z \ 0E \quad 800+50+0$$

$$632 = 6H \ 3Z \ 2E \quad 600+30+2$$

$$912 = 9H \ 1Z \ 2E \quad 900+10+2$$

___/6P

Aufgabe 4

Setze die Reihen fort.



630, 640, **650, 660, 670, 680, 690, 700, 710, 720**, 730

387, 386, **385, 384, 383, 382, 381, 380, 379, 378**, 377

647, 657, **667, 677, 687, 697, 707, 717, 727, 737**, 747

355, 360, **365, 370, 375, 380, 385, 390, 395, 400**, 405

475, 473, **471, 469, 467, 465, 463, 461, 459, 457**, 455

___/10P

Aufgabe 5


Wie heißen die Zehnergarnachbarn?

630 635 **640**

490 492 **500**

500 502 **510**

590 600 **610**



990 999 **1000**

840 847 **850**

280 288 **290**

170 173 **180**

___/8P

Aufgabe 6


Wie heißen die Hunderternachbarn?

600 601 **700**

400 494 **500**

400 480 **500**

700 784 **800**



800 831 **900**

300 320 **400**

100 105 **200**

900 903 **1000**

___/8P

Aufgabe 7

Zeichne die Zahlbilder.

214	124	241	412	421
□□	□ 	□□ . .	□□□□ ..	□□□□ . .

___/5P

Aufgabe 8

Zusatzaufgabe

	Gedachte Zahl
Ich denke mir eine Zahl. Es ist die kleinste dreistellige Zahl.	100
Ich denke mir eine Zahl. Die Zehnerstelle ist 9. Die Einerstelle ist um 3 kleiner als die Zehnerstelle. Die Hunderterstelle ist um 1 kleiner als die Einerstelle.	596
Ich denke mir eine Zahl. Die Hunderterstelle ist die Hälfte von der Zehnerstelle. Die Zehnerstelle ist 8. Die Einerstelle ist um 7 kleiner als die Zehnerstelle.	481
Ich denke mir eine Zahl. Die Zehnerstelle ist 4. Die Einerstelle ist halb so groß wie die Zehnerstelle. Die Hunderterstelle ist doppelt so groß wie die Zehnerstelle.	842

___/6P

Aufgabe 9

Trage die Nachbarzahlen ein.

367	368	369
377	378	379
387	388	389

611	612	613
621	622	623
631	632	633

254	255	256
264	265	266
274	275	276

___/12P

Viel Erfolg!!

Gesamt: ___/69P

Note	1	1-	1-2	2+	2	2-	2-3	3+	3	3-	3-4	4+	4	4-	4-5	5+	5	5-	5-6	6+
Punkte	65	62	60	57	55	52	50	47	44	41	37	34	31	27	24	20	17	14	12	9