





# Klassenarbeit - Zahlen von 1 bis 10 (gemischt)

Mengenbilder; Größer, kleiner, gleich; Vorgänger und Nachfolger;  
Zahlenreihen; Reihenfolgen

## Aufgabe 1

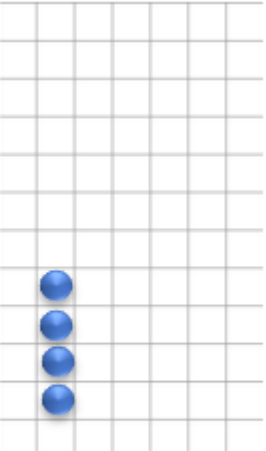



**Verbinde Bild mit Zahl.**

1			
	4	5	6
			
2	9	10	3
	7		

## Aufgabe 2

\_\_\_ /4P


**<, > oder =**

			
4 <input type="checkbox"/> 6	8 <input type="checkbox"/> 7	9 <input type="checkbox"/> 10	7 <input type="checkbox"/> 7


\_\_\_ /4P

Aufgabe 3

Male dazu oder streiche weg.




7



4




8




9




6



4



5



0



5

Aufgabe 4

**Suche Vorgänger und Nachfolger.**

V	Z	N
	4	
	1	

V	Z	N
	7	
4		


V	Z	N
		8
2		

V	Z	N
		5
	6	

\_\_\_/8P

Aufgabe 5

**Vervollständige die Zahlenreihe.**




Aufgabe 6

**Schreibe zu jedem Bild die richtige Zahl.**



\_\_\_\_\_



\_\_\_\_\_



\_\_\_\_\_

\_\_\_/6P



\_\_\_\_\_



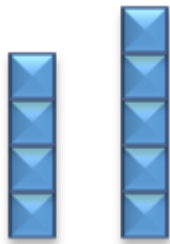
\_\_\_\_\_

\_\_\_\_\_

\_\_\_/6P

### Aufgabe 7

<, > oder =



\_\_\_  \_\_\_

\_\_\_  \_\_\_

\_\_\_  \_\_\_

\_\_\_  \_\_\_

\_\_\_/4P

### Aufgabe 8

Hier wird gebaut: Vom Anfang zum fertigen Haus.



\_\_\_/6P

# Lösung Klassenarbeit - Zahlen von 1 bis 10 (gemischt)

Mengenbilder; Größer, kleiner, gleich; Vorgänger und Nachfolger;  
Zahlenreihen; Reihenfolgen

## Aufgabe 1

Verbinde Bild mit Zahl.

1 4 5 6 3

2 10 8

7

\_\_\_/4P

## Aufgabe 2

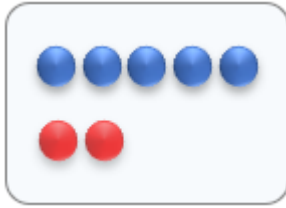
<, > oder =

4 < 6      8 > 7      9 < 10      7 = 7


\_\_\_/4P

Aufgabe 3

Male dazu oder streiche weg.




7



4




8




9




6



4



5



0



5

Aufgabe 4

Suche Vorgänger und Nachfolger.

V	Z	N
3	4	5
0	1	2

V	Z	N
6	7	8
4	5	6

V	Z	N
6	7	8
2	3	4

V	Z	N
3	4	5
5	6	7

\_\_\_/8P

Aufgabe 5

Vervollständige die Zahlenreihe.




\_\_\_/6P

Aufgabe 6

Schreibe zu jedem Bild die richtige Zahl.



3



7




5



6



5

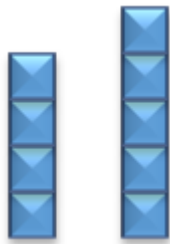


9

\_\_\_/6P

### Aufgabe 7


<, > oder =




4 < 5



7 > 6



6 = 6



8 > 4

\_\_\_/4P

### Aufgabe 8

Hier wird gebaut: Vom Anfang zum fertigen Haus.



1.

7.

2.

5.

4.

3.

6.

\_\_\_/6P

*Viel Erfolg!!*

Gesamt: \_\_\_/47P

Note	1	1-	1-2	2+	2	2-	2-3	3+	3	3-	3-4	4+	4	4-	4-5	5+	5	5-	5-6	6+
Punkte	44	42	41	39	37	35	34	32	30	28	25	23	21	18	16	14	11	9	8	6