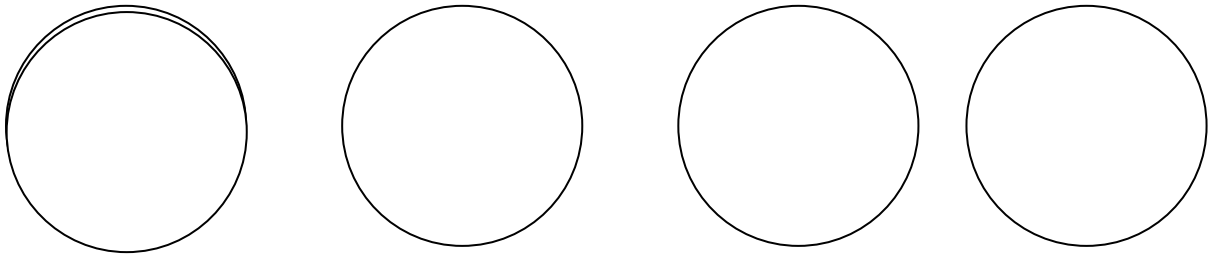


Kennst du die Uhr?

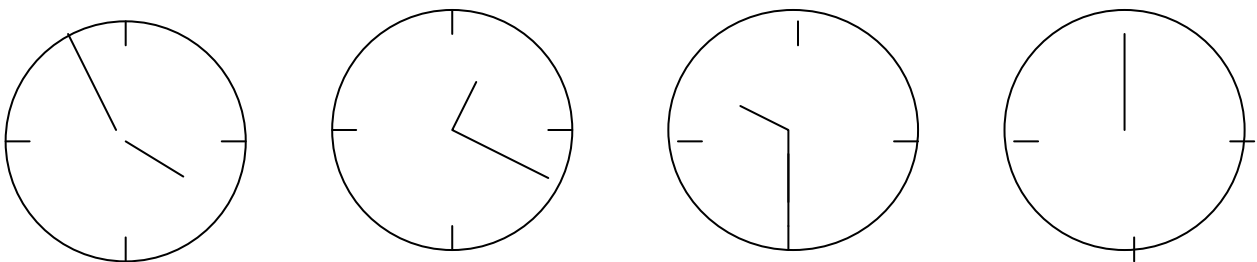
1. Wann beginnen die Sendungen? Zeichne die Zeiger ein.

Tigerenten Club - Die Sendung mit der Maus - Löwenzahn - Logo



Kinderkanal	
9.00	Tigerenten Club
10.35	Der kleine Bibelfuchs
11.03	Nils Holgerson
12.00	Die Sendung mit der Maus
13.30	Boxx
14.00	Frech wie Rudi
14.15	Pingu
14.20	Siebenstein
14.45	Löwenzahn
15.15	Logo
15.30	Das Geheimnis der Delphine
16.20	Blauvogel

2) Schreibe die zwei möglichen Zeiten und die Tageszeiten zu jeder Uhr



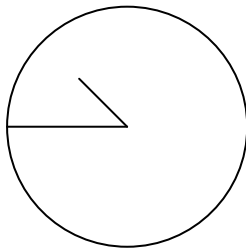
3.55 Uhr			
Nacht			
15.55 Uhr			
Nachmittag			

Morgen/Vormittag/Mittag/Nachmittag/Abend/Nacht/Mitternacht

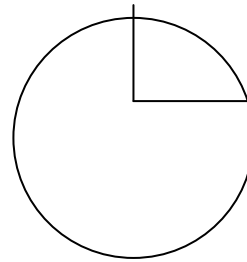
Kennst du die Uhr?

1) Ein Tag hat Stunden. Eine Stunde hat.... Minuten. Eine Minute hat Sekunden. Eine halbe Stunde hat Minuten. Eine Viertel Stund hat Minuten.

2) Male mit einer Farbe aus, was zusammen gehört. Es gibt „3 Schwarze Peter“.



rot (3)



gelb (3)

3.01 Uhr

12:15 Uhr

dreiviertel zehn

Viertel nach zwölf

9:45 Uhr


21.45 Uhr

00:15 Uhr


Viertel vor acht

0.50 Uhr


3) Klaus ist um 15 Uhr zum Kindergeburtstag eingeladen. Zwei Stunden davor ist sein Unterricht zu Ende. Die Geburtstagsparty ist nach zwei Stunden vorbei. Eine halbe Stunde später ist Klaus zu Hause.




Die Schule ist aus.



Der Kindergeburtstag fängt an.



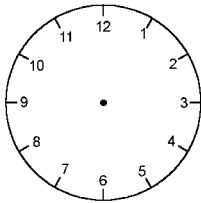
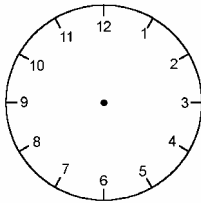
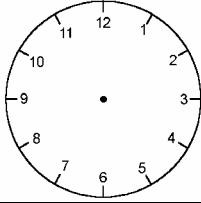
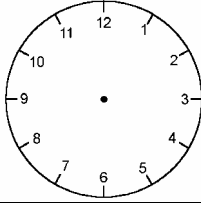
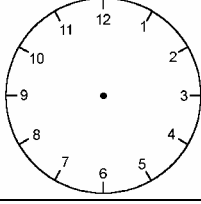
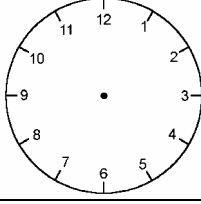
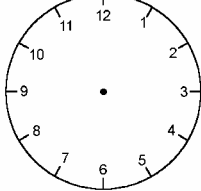
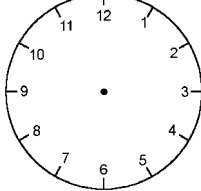
Die Geburtstagsparty ist zu Ende.



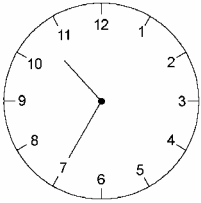
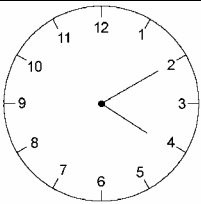
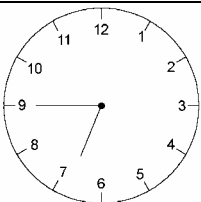
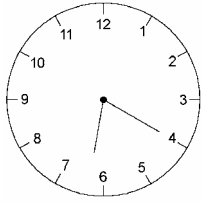
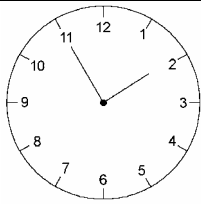
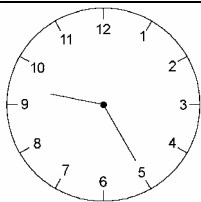
Klaus ist zu Hause.

Kennst du die Uhr?

1. Trage die Zeiger richtig ein.

20 : 15		23 : 40	
3 : 20		5 : 55	
10 : 50		2 : 05	
1 : 30		18 : 30	

2. Trage die richtige Uhrzeit ein. Es gibt jeweils 2 Möglichkeiten.

	<input style="width: 100%; height: 20px; border: 1px solid black;" type="text"/> <input style="width: 100%; height: 20px; border: 1px solid black;" type="text"/>
	<input style="width: 100%; height: 20px; border: 1px solid black;" type="text"/> <input style="width: 100%; height: 20px; border: 1px solid black;" type="text"/>
	<input style="width: 100%; height: 20px; border: 1px solid black;" type="text"/> <input style="width: 100%; height: 20px; border: 1px solid black;" type="text"/>
	<input style="width: 100%; height: 20px; border: 1px solid black;" type="text"/> <input style="width: 100%; height: 20px; border: 1px solid black;" type="text"/>
	<input style="width: 100%; height: 20px; border: 1px solid black;" type="text"/> <input style="width: 100%; height: 20px; border: 1px solid black;" type="text"/>
	<input style="width: 100%; height: 20px; border: 1px solid black;" type="text"/> <input style="width: 100%; height: 20px; border: 1px solid black;" type="text"/>

Es gibt verschiedene Arten, die Uhrzeit anzuzeigen. – Lösungen –

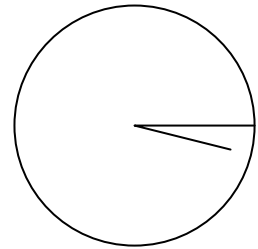
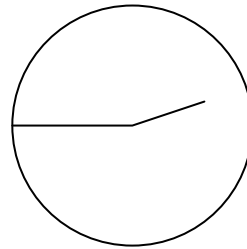
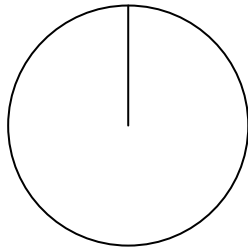
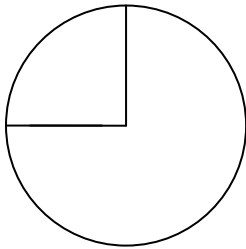
1) Wann beginnen die Sendungen? Zeichne die Zeiger ein.

Tigerenten Club

Die Sendung mit der Maus

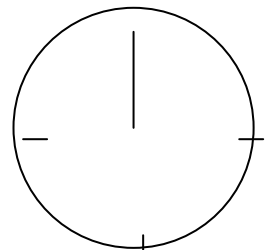
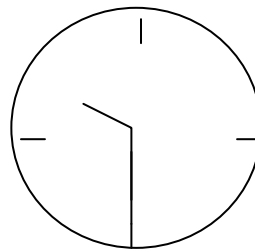
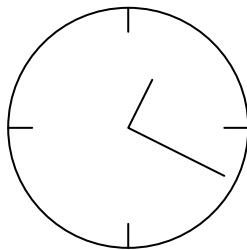
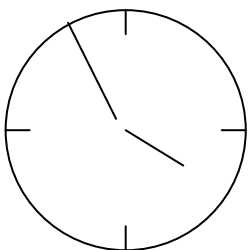
Löwenzahn

Logo



Kinderkanal	
9.00	Tigerenten Club
10.35	Der kleine Bibelfuchs
11.03	Nils Holgerson
12.00	Die Sendung mit der Maus
13.30	Boxx
14.00	Frech wie Rudi
14.15	Pingu
14.20	Siebenstein
14.45	Löwenzahn
15.15	Logo
15.30	Das Geheimnis der Delphine
16.20	Blauvogel

2) Schreibe die zwei möglichen Zeiten und die Tageszeiten zu jeder Uhr



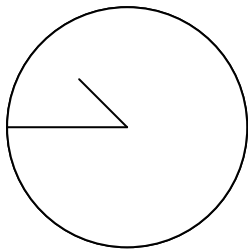
3.55 Uhr	1.20 Uhr	9.30 Uhr	12 00 Uhr
Nacht	Nacht	Vormittag	Mittag
15.55 Uhr	13.20 Uhr	21.30 Uhr	24.00 Uhr
Nachmittag	Mittag	Abend	Mitternacht

Morgen/Vormittag/Mittag/Nachmittag/Abend/Nacht/Mitternacht

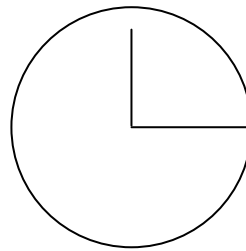
Es gibt verschiedene Arten, die Uhrzeit anzuzeigen. – Lösungen –

1) Ein Tag hat ...24. Stunden. Eine Stunde hat 60... Minuten. Eine Minute hat ...60. Sekunden. Eine halbe Stunde hat 30.... Minuten. Eine Viertel Stund hat ...15. Minuten.

2) Male mit einer Farbe aus, was zusammen gehört. Es gibt „3 Schwarze Peter“.



rot (3)



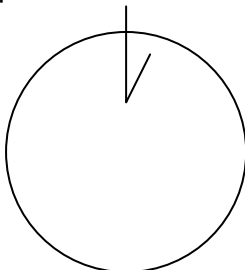
grün(3)

3.01 Uhr
Viertel nach zwölf
00:15 Uhr

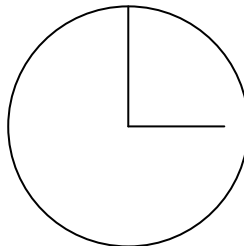
12:15 Uhr
9:45 Uhr
Viertel vor acht

dreiviertel zehn
21.45 Uhr
0.50 Uhr

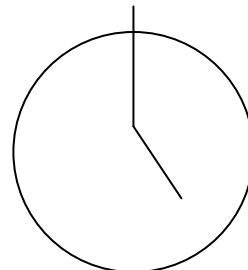
3) Klaus ist um 15 Uhr zum Kindergeburtstag eingeladen. Zwei Stunden davor ist sein Unterricht zu Ende. Die Geburtstagsparty ist nach zwei Stunden vorbei. Eine halbe Stunde später ist Klaus zu Hause.



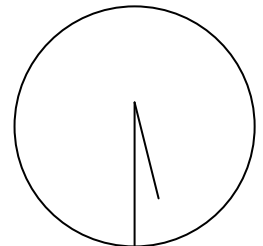
Die Schule ist aus.



Der Kindergeburtstag fängt an.



Die Geburtstagsparty ist zu Ende.



Klaus ist zu Hause.

Es gibt verschiedene Arten, die Uhrzeit anzuzeigen. – Lösungen

1. Trage die Zeiger richtig ein.

20 : 15		23 : 40	
3 : 20		5 : 55	
10 : 50		2 : 05	
1 : 30		18 : 30	

2. Trage die richtige Uhrzeit ein. Es gibt jeweils 2 Möglichkeiten.

	10 : 35		6 : 20
	22 : 35		18 : 20
	4 : 10		1 : 55
	16 : 10		13 : 55
	6 : 45		9 : 25
	18 : 45		21 : 25

Kennst du die Uhr?

Der große Zeiger gibt die Teile einer Stunde an. Überprüfe die Zifferblätter auf den vorigen Seiten!
Wohin zeigt der große Zeiger?

Ergänze die folgenden Sätze! Die Wortliste hilft dir dabei!



Wenn der Minutenzeiger auf die

zeigt, beginnt eine



Wenn der Minutenzeiger auf die

zeigt, dann ist es



Wenn der Minutenzeiger auf die

zeigt, dann ist es



Wenn der Minutenzeiger auf die

zeigt, dann ist es

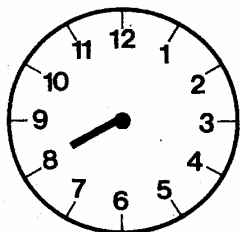


Wenn der Minutenzeiger wieder auf die


zeigt, ist die

Beobachte, wie der kleine Zeiger während einer Stunde wandert!

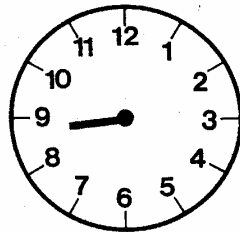
Hier fehlen die Minutenzeiger. Zeichne sie ein! Achte dabei auch auf den Stundenzeiger!



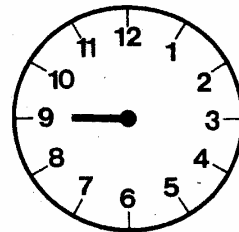
Viertel nach acht



halb neun

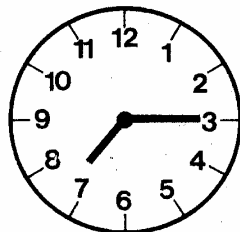


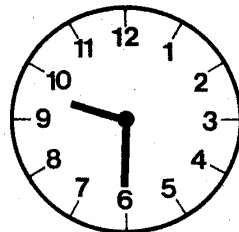
Viertel vor neun

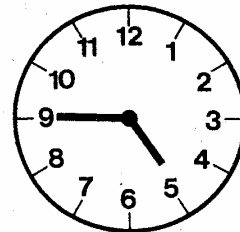



neun Uhr

Schreibe die Zeit unter die Uhren!



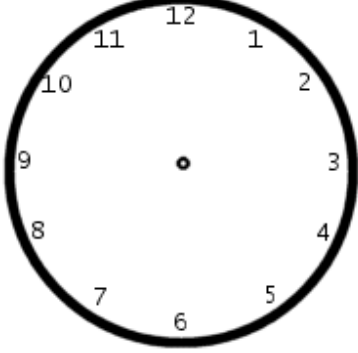
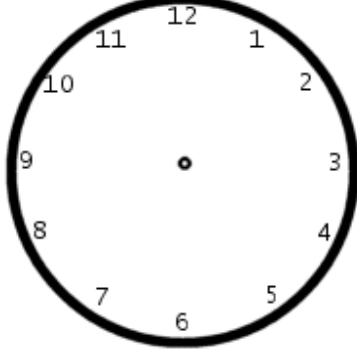
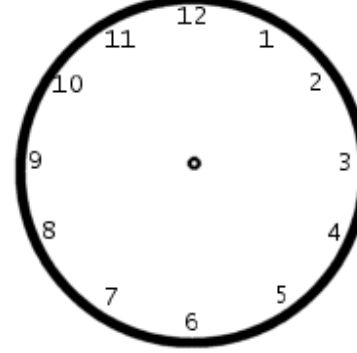
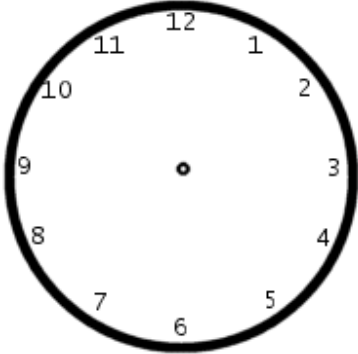
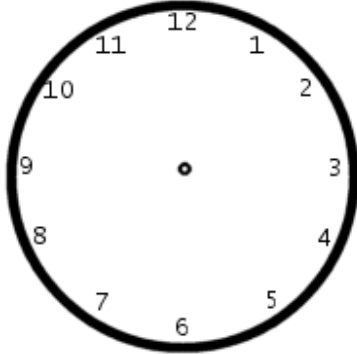
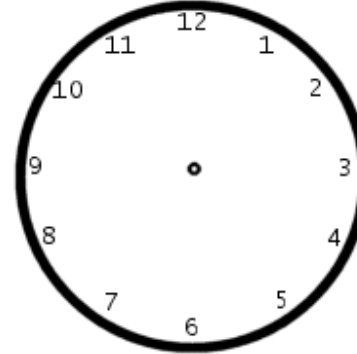
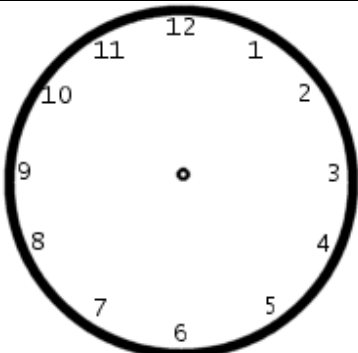
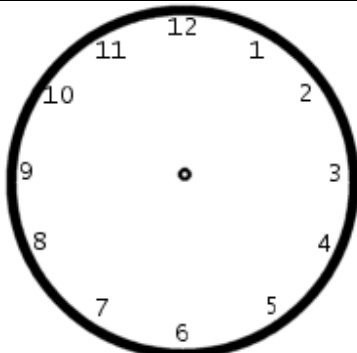
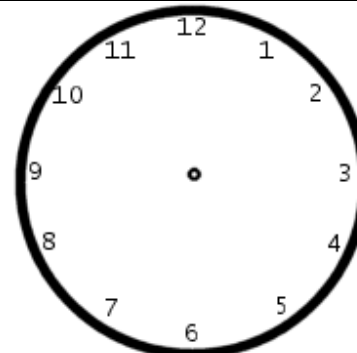






Kennst du die Uhr?

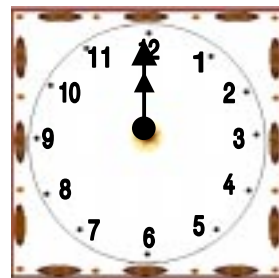
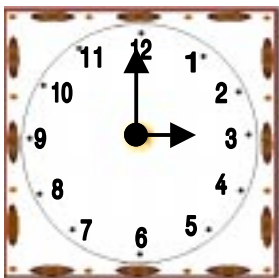
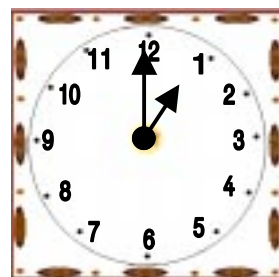
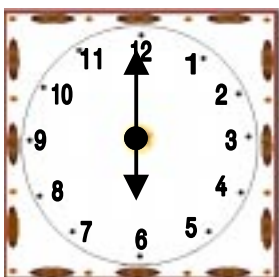
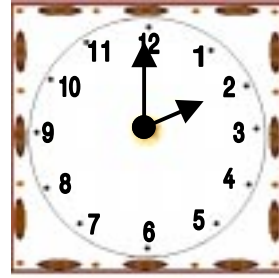
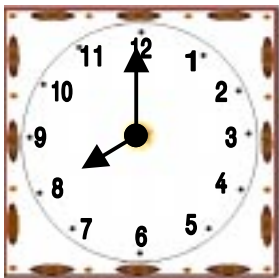
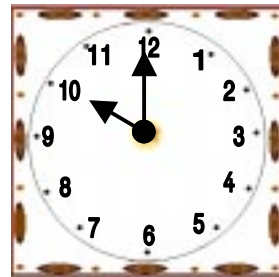
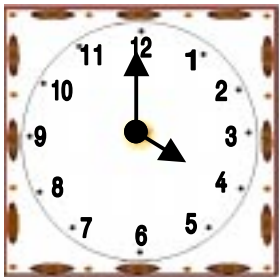
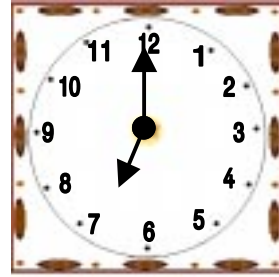
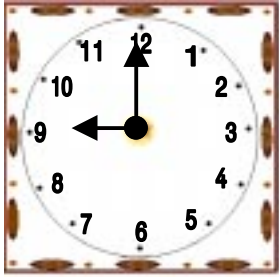
Zeichne den großen und den kleinen Zeiger in jeder Uhr an die richtige Stelle!

 <p>5:00</p>	 <p>8:30</p>	 <p>7:15</p>
 <p>11:30</p>	 <p>6:00</p>	 <p>3:45</p>
 <p>12:00</p>	 <p>9:15</p>	 <p>2:30</p>

Die Uhrzeit

Name: _____

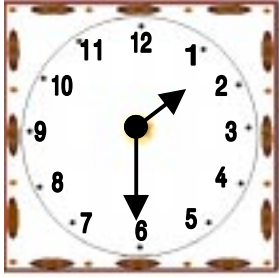
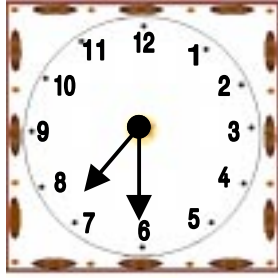
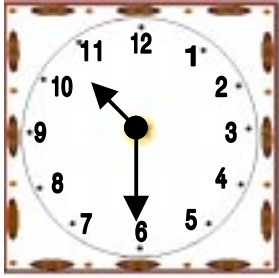
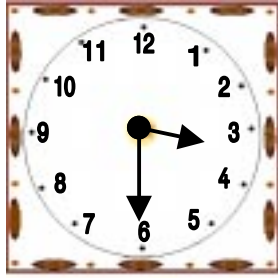
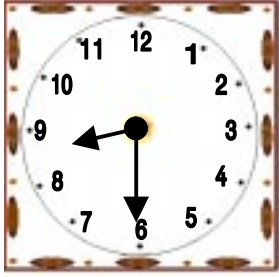
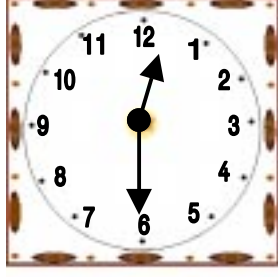
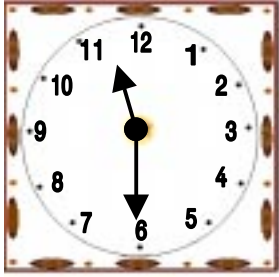
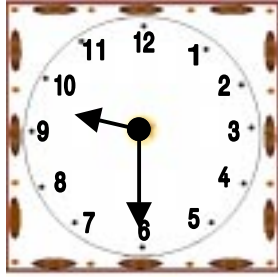

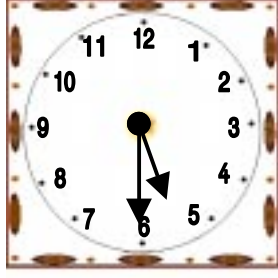
Schreib die Uhrzeiten auf:



Die Uhrzeit

Name: _____

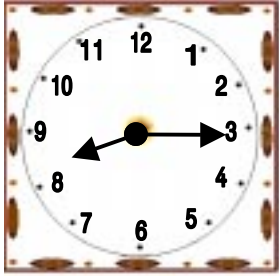
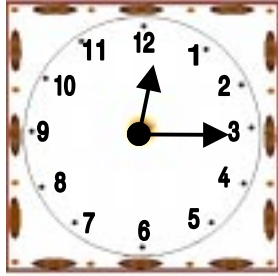
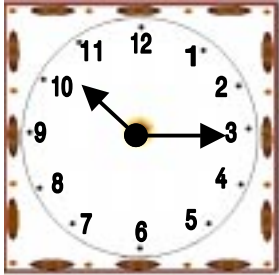
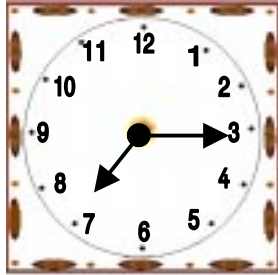

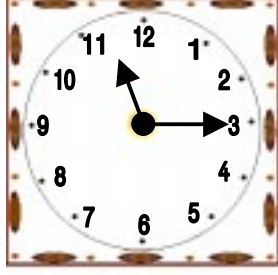
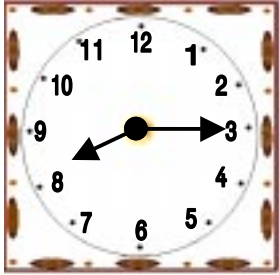
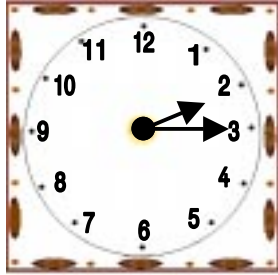
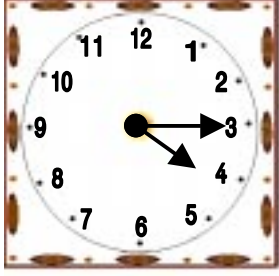
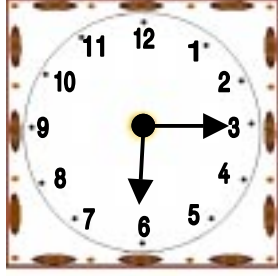
Schreib die Uhrzeiten auf:

Die Uhrzeit

Name: _____

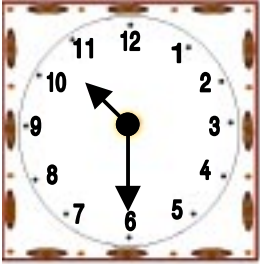
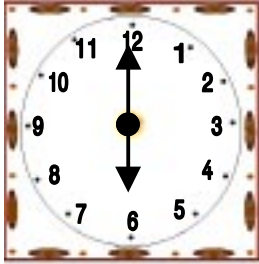
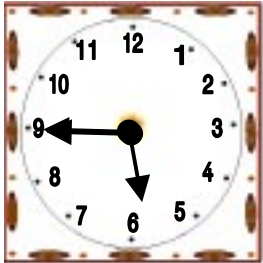
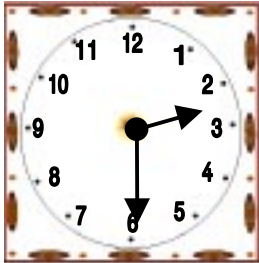
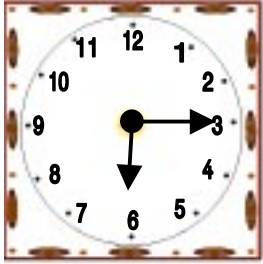
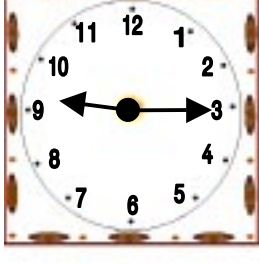
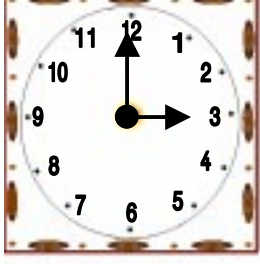
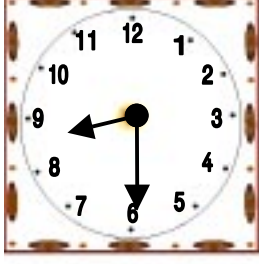
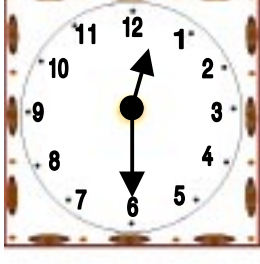
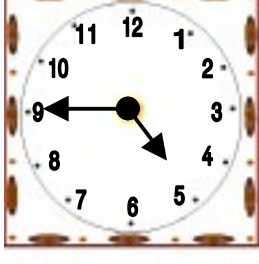
Schreib die Uhrzeiten auf:

Die Uhrzeit

Name: _____

Wie spät ist es ?

Die Uhrzeit

Name: _____

Wie spät ist es ?

