


Klassenarbeit - Noten

Tonleiter; Notenschlüssel; Notenwerte; Pausen; Notensystem

Aufgabe 1


Schreibe die C-Dur Tonleiter auf. Schreibe auch die Tonnamen dazu.



___ /16P

Aufgabe 2

Schreibe einen Violinenschlüssel.



___ /1P

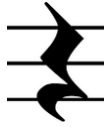
Aufgabe 3

Kreuze das richtige an.

	<input type="checkbox"/> vier Achtelnoten <input type="checkbox"/> vier Viertelnoten <input type="checkbox"/> vier Viertelpausen
	<input type="checkbox"/> zwei ganze Noten <input type="checkbox"/> zwei Achtelnoten <input type="checkbox"/> zwei halbe Noten
	<input type="checkbox"/> eine ganze Note <input type="checkbox"/> eine ganze Pause <input type="checkbox"/> eine halbe Note



- eine ganze Pause
- eine halbe Pause
- eine Viertelpause



- eine Achtelpause
- eine Viertelpause
- eine halbe Pause



- vier Achtelnoten
- vier Viertelnoten
- vier Sechzehntelnoten



- eine Achtelnote
- eine ganze Note
- eine Dreiviertelnote



- eine halbe Pause
- eine ganze Pause
- eine Viertelpause



- drei Viertelnoten
- drei Achtelnoten
- drei Sechzehntelnoten



- eine Viertelpause
- eine Achtelpause
- ein Taktstrich



- eine punktierte Viertelnote
- eine punktierte Achtelnote
- eine punktierte halbe Note



- eine Viertelpause
- eine Achtelpause
- eine Sechzehntelpause

___/12P

Aufgabe 4

Welche Noten sind das?





___/2P

Aufgabe 5

Schreibe die Wörter AFFE und DACH als Noten.



___/16P

Aufgabe 6

Ergänze die Sätze.

Eine Ganze Note dauert solange wie _____ Viertelnoten.

Zwei Halbe Noten dauern solange wie _____ Achtelnoten.

Vier _____ dauern solange wie eine Halbe Note.

Zwei _____ dauern solange wie eine Ganze Note.

___/4P

Aufgabe 7

Fülle die Lücken der C Dur Tonleiter.

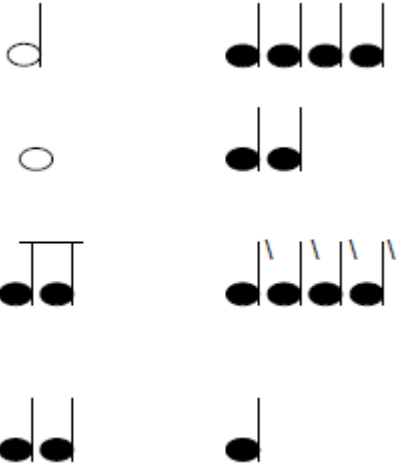
C D ___ F G ___ H C

___/2P



Aufgabe 8

Welche Noten dauern gleich lang? Verbinde.




___/4P

Lösung Klassenarbeit - Noten

Tonleiter; Notenschlüssel; Notenwerte; Pausen; Notensystem

Aufgabe 1

Schreibe die C-Dur Tonleiter auf. Schreibe auch die Tonnamen dazu.



___ /16P

Aufgabe 2

Schreibe einen Violinenschlüssel.











___ /1P

Aufgabe 3

Kreuze das richtige an.

	<input type="checkbox"/> vier Achtelnoten <input checked="" type="checkbox"/> vier Viertelnoten <input type="checkbox"/> vier Viertelpausen
	<input type="checkbox"/> zwei ganze Noten <input type="checkbox"/> zwei Achtelnoten <input checked="" type="checkbox"/> zwei halbe Noten
	<input checked="" type="checkbox"/> eine ganze Note <input type="checkbox"/> eine ganze Pause <input type="checkbox"/> eine halbe Note

	<input checked="" type="checkbox"/> eine ganze Note <input type="checkbox"/> eine ganze Pause <input type="checkbox"/> eine halbe Note
	<input checked="" type="checkbox"/> eine ganze Pause <input type="checkbox"/> eine halbe Pause <input type="checkbox"/> eine Viertelpause
	<input type="checkbox"/> eine Achtelpause <input checked="" type="checkbox"/> eine Viertelpause <input type="checkbox"/> eine halbe Pause
	<input checked="" type="checkbox"/> vier Achtelnoten <input type="checkbox"/> vier Viertelnoten <input type="checkbox"/> vier Sechzehntelnoten
	<input type="checkbox"/> eine Achtelnote <input type="checkbox"/> eine ganze Note <input checked="" type="checkbox"/> eine Dreiviertelnote
	<input checked="" type="checkbox"/> eine halbe Pause <input type="checkbox"/> eine ganze Pause <input type="checkbox"/> eine Viertelpause
	<input type="checkbox"/> drei Viertelnoten <input type="checkbox"/> drei Achtelnoten <input checked="" type="checkbox"/> drei Sechzehntelnoten
	<input type="checkbox"/> eine Viertelpause <input checked="" type="checkbox"/> eine Achtelpause <input type="checkbox"/> ein Taktstrich



- eine Viertelpause
- eine Achtelpause
- eine Sechzehntelpause

___/12P

Aufgabe 4

Welche Noten sind das?



2 Achtelnoten



2 Halbe Noten

___/2P

Aufgabe 5

Schreibe die Wörter AFFE und DACH als Noten.



___/16P

Aufgabe 6

Ergänze die Sätze.

Eine Ganze Note dauert solange wie **vier** Viertelnoten.

Zwei Halbe Noten dauern solange wie **acht** Achtelnoten.

Vier **Achtelnoten** dauern solange wie eine Halbe Note.

Zwei **Halbe Noten** dauern solange wie eine Ganze Note.

___/4P

Aufgabe 7

Fülle die Lücken der C Dur Tonleiter.

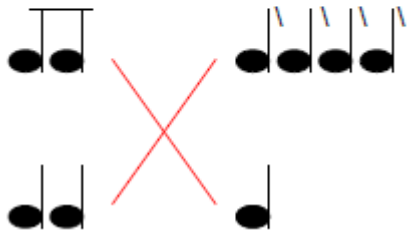
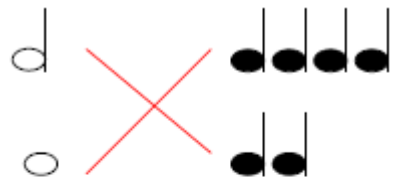
C D **E** F G **A** H C

___/2P



Aufgabe 8

Welche Noten dauern gleich lang? Verbinde.



Viel Glück!!

Gesamt: ____/57P

Note	1	1-	1-2	2+	2	2-	2-3	3+	3	3-	3-4	4+	4	4-	4-5	5+	5	5-	5-6	6+
Punkte	51	49	47	44	42	40	38	36	34	31	28	25	22	20	18	16	14	12	9	7

klassenarbeiten.de - Klassenarbeit 1234 - Grundschule, 4. Klasse, Musik