


1. Wie heißen folgende Noten? Schreibe den Namen genau unter den Ton.



2. Trage folgende Notenwerte mit Tonhöhe in die Notenlinie ein:

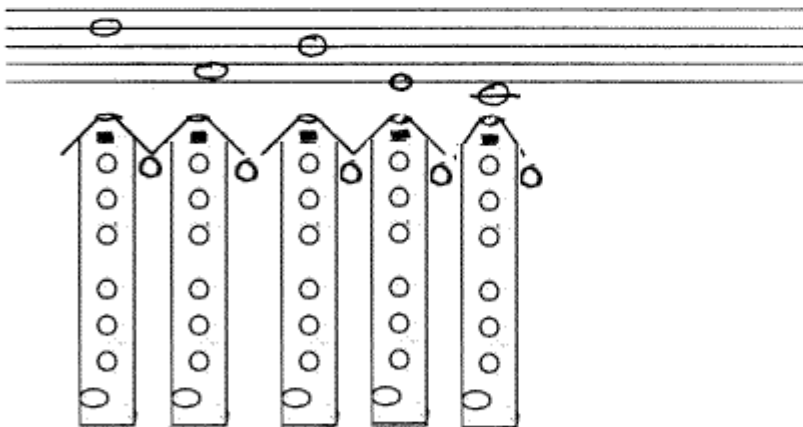


c1 Halbe / d2 Achtel / h1 Ganze / f1 Viertel / c2 Sechzehntel

3. Suche die Fehler und verbessere:



4. Wie werden folgende Töne auf der Blockflöte gespielt? Trage die Griffe in die Griffstabellen ein (unter der Notenlinie):



5. Ergänze: der Punkt hinter einer Note.

Deshalb ist die punktierte Viertel Achtel lang.
Deshalb ist die punktierte Halbe Viertel lang.

6. Nenne 4 Instrumente in F-Stimmung aus der Familie der Blockflöte.

7. Zusatzaufgabe: Schreibe die 3. Strophe von „Sascha geizte mit den Worten“ auf.

1. Wie heißen folgende Noten? Schreibe den Namen genau unter den Ton.



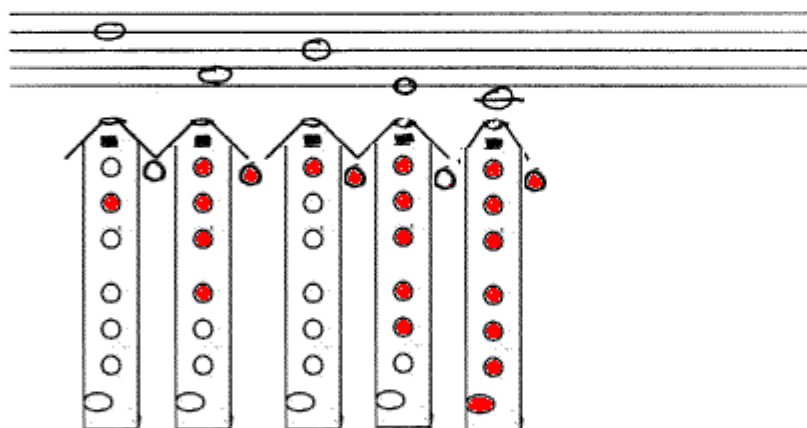
2. Trage folgende Notenwerte mit Tonhöhe in die Notenlinie ein:



3. Suche die Fehler und verbessere:



4. Wie werden folgende Töne auf der Blockflöte gespielt? Trage die Griffe in die Griffstabellen ein (unter der Notenlinie):



5. Ergänze: der Punkt hinter einer Note.

Deshalb ist die punktierte Viertel ³ Achtel lang.
Deshalb ist die punktierte Halbe ⁶ Viertel lang.

6. Nenne 4 Instrumente in F-Stimmung aus der Familie der Blockflöte.

7. Zusatzaufgabe: Schreibe die 3. Strophe von „Sascha geizte mit den Worten“ auf.

3. Sascha liebte nur Geflügel, Rosse hielt er streng am Zügel,
tät sie striegeln oder zwacken an den beiden Hinterbacken.